

# THEORIE-EXAMEN ZEILEN

Zomerkamp 2022

Naam: .....

Selecteer voor welk niveau U opgaat:

- Zeilen Rood
- Zeilen Groen

## Belangrijk:

Dit examen bestaat uit de examens voor Zeilen Rood en Zeilen Groen. Als U voor Zeilen Rood opgaat, mag U Zeilen Groen proberen. Als U voor Zeilen Groen opgaat, maakt U eerst Zeilen Rood. LET OP: Zowel Rood als Groen maakt het onderdeel BPR-situaties.

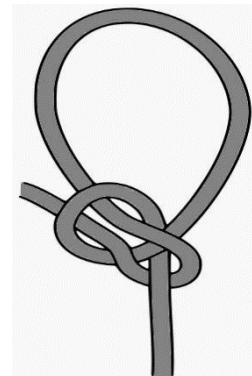
Als U vragen heeft, steek dan uw hand op tot een surveillant bij U komt.

Dit is het opgavenvel. Aantekeningen hierop maken is toegestaan, maar antwoorden die op dit vel worden geschreven worden niet nagekeken.

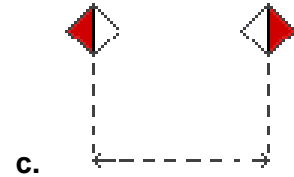
Geef iedereen een kans: stilte tijdens het examen en bij het verlaten van de ruimte, en houd het ook buiten rustig tot het examen door iedereen is afgerond.

## I. ZEILEN ROOD

- 1)
  - a) Welke knoop wordt hier afgebeeld en in welke specifieke situatie(s) wordt deze gebruikt?
  - b) Noem een belangrijk voordeel van deze knoop.
- 2) Wat is "jagen"?
  - a. Door middel van een riem, boom of ander langwerpige voorwerp je afzetten tegen de bodem om vaart te maken.
  - b. Door constant van wal naar wal te varen om een punt dat tegen de wind in ligt te bezeilen.
  - c. Achteruit varen.
  - d. Vanaf de kant een boot vooruit trekken.
- 3) Beschrijf en teken een hogerwalmanoeuvre met commando's.
- 4) Om een negatieve plooi weg te halen, maak je gebruik van de ...
  - a. Piekenval
  - b. Mastval
  - c. Klauwval
  - d. Grootshoort



5) Geef de betekenis van de borden, afgebeeld hieronder:



6) Bepaal de beste locatie om de zeilen bij harde wind te laten zakken:

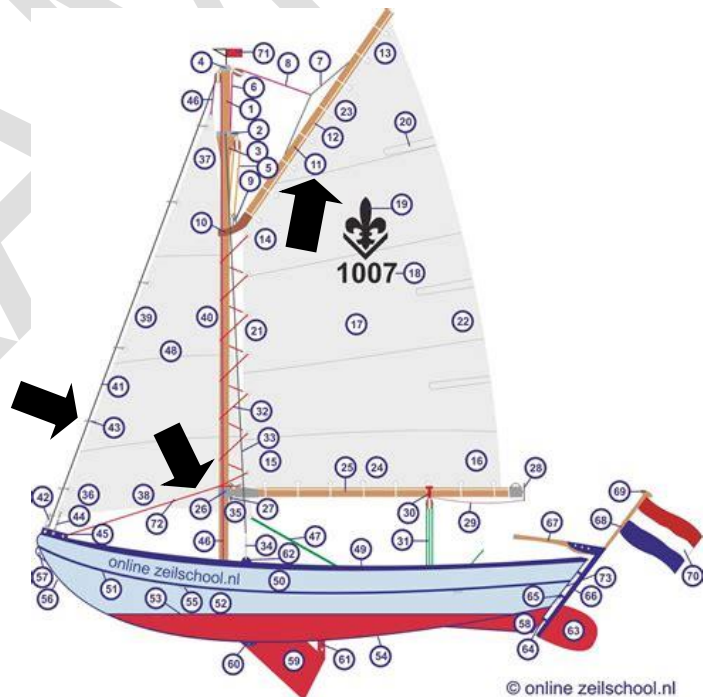
- a. Locatie A
- b. Locatie B
- c. Locatie C
- d. Locatie D



Luchtfoto van onze haven op de Mookerplas

7) Benoem de volgende onderdelen:

- a. Onderdeel 11
- b. Onderdeel 43
- c. Onderdeel 26



8) Welke nummers en bijhorende kleurcodes hebben onze vletten, vanaf het Zeuntje gezien?

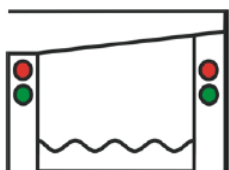
**LET OP:** zowel Zeilen Rood als Zeilen Groen dienen de BPR-situaties op de laatste pagina te maken.

## II. ZEILEN GROEN

9) Je vaart aan de wind. Door een plotselinge windvlaag valt een persoon overboord. Beschrijf en teken daarbij de stappen die je doorloopt, om de persoon weer aan boord te krijgen. Gebruik de juiste commando's.

10) Geef van de betekenis van de tekens, hieronder afgebeeld:

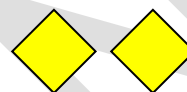
a. Kleuren: Rood boven Groen



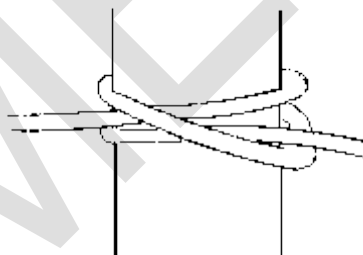
b. Kleuren: Groen boven Rood



c. Kleuren: Geel



11) Welke knoop wordt hier afgebeeld?



12) Stel: 's Nachts vaart er een klein zeilschip van 12 meter lang onder zeil jou tegemoet. Teken en geef aan welke lichten je ziet.

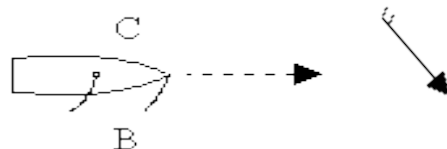
13) Noem 4 situaties waarin men een reddingsvest dient te dragen.

14) Wat betekent het volgende geluidsein?

- - (kort-kort)

15) Selecteer het juiste antwoord:

- a. A = hogerwal | B = loefzijde | C = lijzijde
- b. A = lagerwal | B = loefzijde | C = lijzijde
- c. A = hogerwal | B = lijzijde | C = loefzijde
- d. A = lagerwal | B = lijzijde | C = loefzijde



16) Welk zeil hijsen we als laatst en waarom doen we dit?

A

**LET OP:** zowel Zeilen Rood als Zeilen Groen dienen de BPR-situaties op de laatste pagina te maken.

### III. BPR-SECTIE: VERKEERSSITUATIES

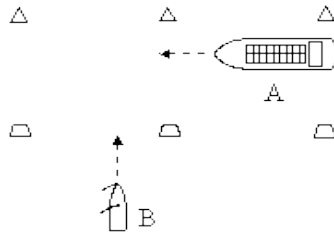
Geef bij de onderstaande situaties de volgorde van wijken, en de voorrangsregel(s) die daarbij van toepassing is/zijn.



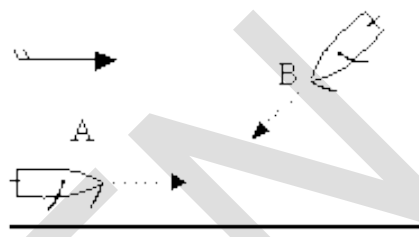
Voorbeeld:

B moet wijken : Zeil over bakboord heeft voorrang

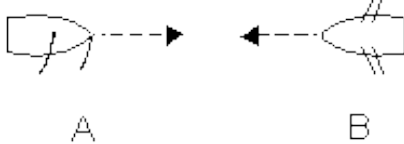
1.



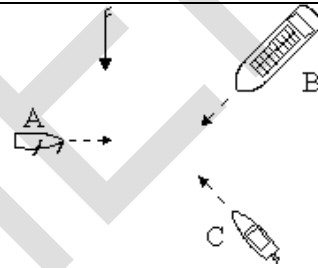
6.



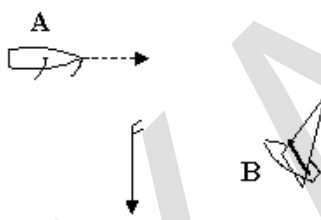
2.



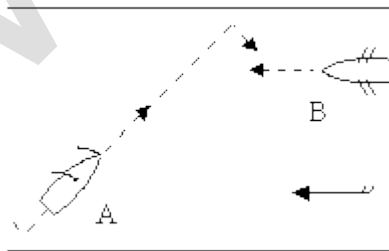
7.



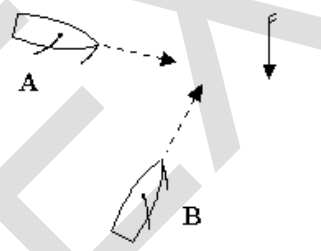
3.



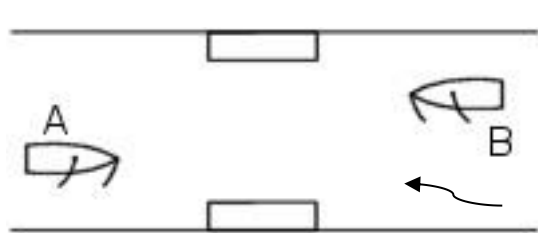
8.



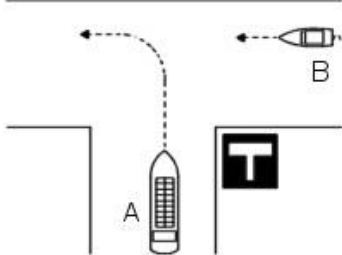
4.



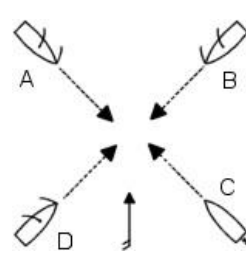
9.



5.



10.



**LET OP:** zowel Zeilen Rood als Zeilen Groen dienen de BPR-situaties op de laatste pagina te maken.