

THEORIE-EXAMEN ROEIEN

Zomerkamp 2022

Naam:

Selecteer voor welk niveau U opgaat:

- Roeien I
- Roeien II

Belangrijk:

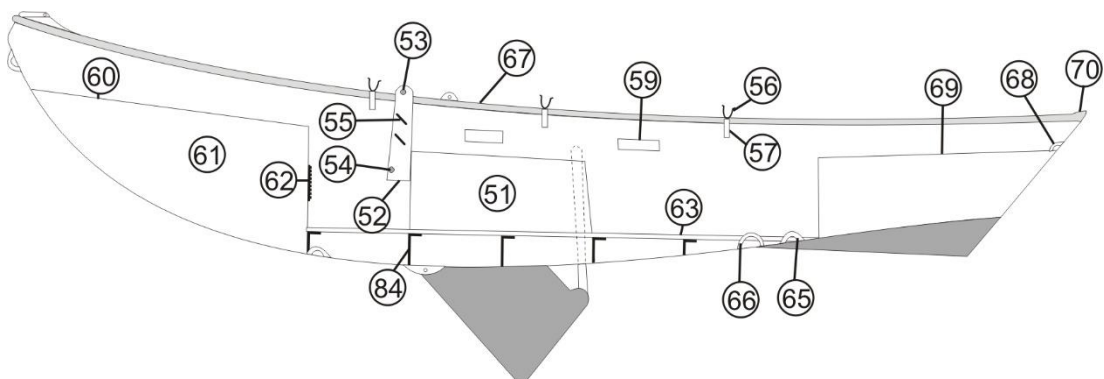
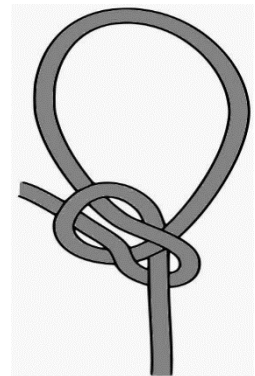
Dit examen bestaat uit de examens voor Roeien I en Roeien II. Als je opgaat voor Roeien II, moet je het hele examen maken. Ga je alleen op voor Roeien I, mag je altijd Roeien II proberen. LET OP: zowel Roeien I als II maken de BPR-situaties.

Dit is het opgavenvel. Je mag hierop schrijven, maar antwoorden moeten op het antwoordblad geschreven worden.

Geef iedereen een kans: stilte tijdens het examen en bij het verlaten van de ruimte, en houd het ook buiten rustig tot het examen door iedereen is afgerond.

I. ROEIEN I

- 1) Welke knoop wordt hiernaast afgebeeld? En wanneer gebruiken we deze knoop?
- 2) Wat gebeurt er als stuurboord haalt, en bakboord strijkt?
 - a. De vlet draait naar stuurboord
 - b. De vlet draait naar bakboord
 - c. De vlet stopt af
 - d. De vlet gaat naar achteren
- 3) Stel: je vaart achteruit. Welke kant draait de punt op, als je de helmstok naar stuurboord duwt?
- 4) Noem de volgende onderdelen
 - a. Onderdeel 54 (niet het gat, maar het object wat daar doorheen gaat)
 - b. Onderdeel 57
 - c. Onderdeel 84



5) Selecteer: bij welk bord mag je wél met jouw roeiboot komen?



6) Geef de commando's om een acht met één groot en één klein rondje te roeien.

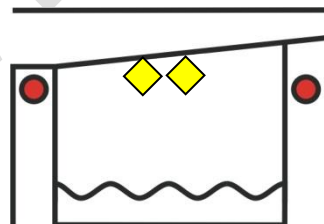
7) Welke nummers en bijhorende kleurcodes hebben onze vletten, vanaf de Zeun gezien?

Dit was het examen voor Roeien I. Het examen voor Roeien II gaat hieronder verder. Zowel Roeien I als Roeien II dienen de BPR-voorrangssituaties achterin te maken.

II. ROEIEN II

8) Er komt een groot schip aan. Hoe weet je of je in de dode hoek zit?

9) Geef van de betekenis van de tekens, hiernaast afgebeeld:



10) Je vaart al roeiend met beide boorden op de kant af. Beschrijf alle benodigde stappen om de vlet op de bakboordzijde vast te leggen.

11) Wat betekent de volgende betoning?



12) Noem 3 situaties waarin men een reddingsvest moet dragen

13) Wat betekent het volgende geluidsein?

- - (kort-kort)

14) Je zit midden op het water. Er is onweer op komst. Noem de acties die je moet ondernemen.

III. BPR-SECTIE: VERKEERSSITUATIES

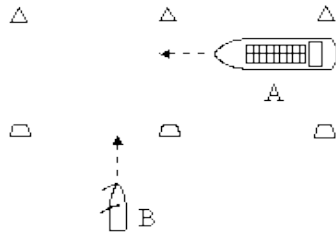
Geef bij de onderstaande situaties de volgorde van wijken, en de voorrangsregel(s) die daarbij van toepassing is/zijn.



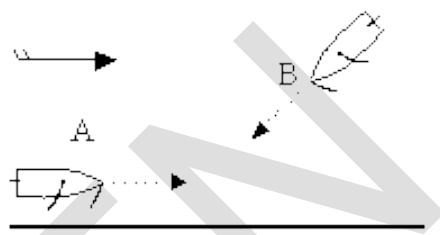
Voorbeeld:

B moet wijken : Zeil over bakboord heeft voorrang

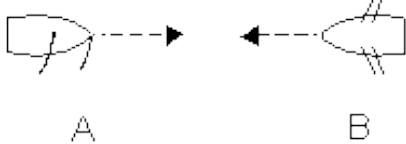
1.



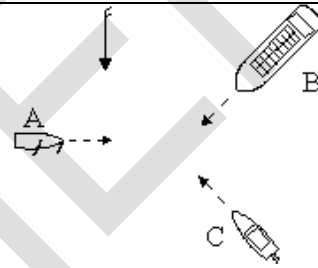
6.



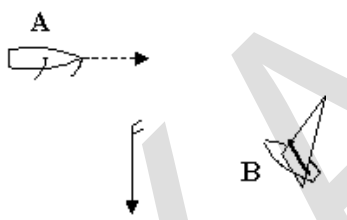
2.



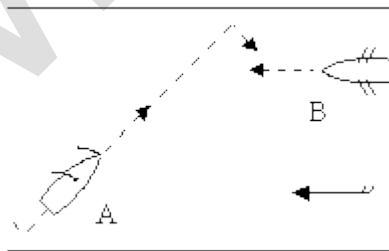
7.



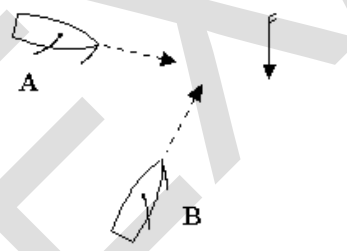
3.



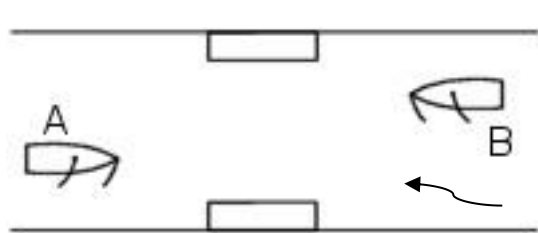
8.



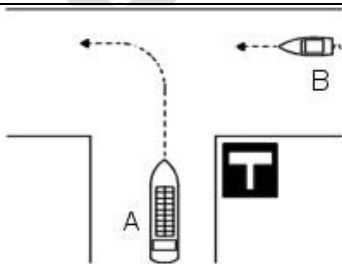
4.



9.



5.



10.

